

Bayernwald

Duitse loopgraven in de Grote Oorlog



Opdrachten 4^{de}, 5^{de} en 6^{de} leerjaar



Provincie
West-Vlaanderen
Door mensen gedreven



Hoi, ik ben Hanna.

Ik ben 11 jaar. Ik woon in Heuvelland. Vandaag neem ik jullie mee op reis in de tijd, terug naar de Eerste Wereldoorlog.

In augustus 1914 vielen Duitse soldaten ons land binnen. Na 3 maanden strijd stonden ze aan de poorten van Ieper, kort daarop veroverden ze Wijtschate.

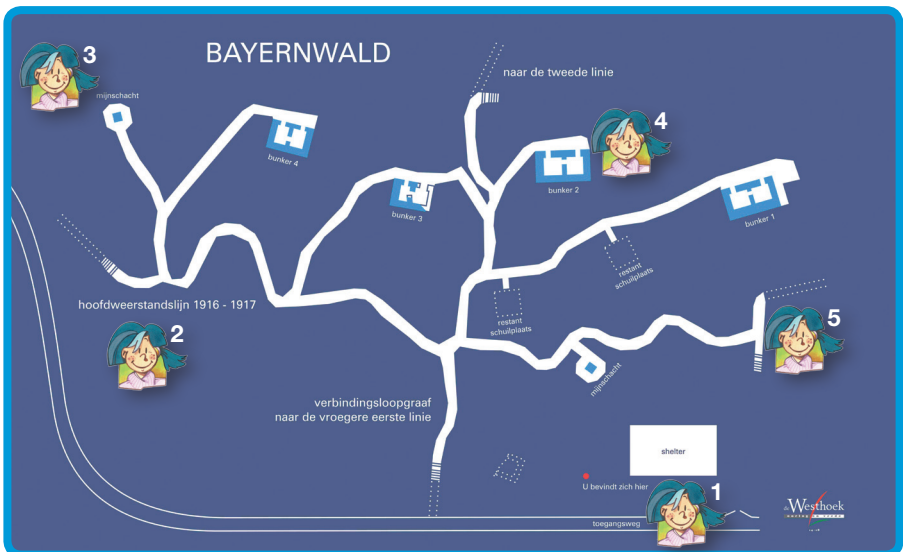
Hier in Bayernwald kan je heel goed zien hoe een Duitse soldaat moest leven tijdens de Eerste Wereldoorlog. Verspreid over de site zal ik je leuke weetjes vertellen over het leven van de soldaten.

De naam Bayernwald komt van de soldaten die hier vochten. Zij kwamen allemaal uit de Duitse streek Beieren. Beieren wordt in het Duits vertaald als Bayern. Wald is dan weer een Duits woord voor woud of bos.

Jullie staan dus nu in het bos waar de Beierse soldaten zich hadden ingegraven.



Op de kaart onderaan vind je de locaties waar je de opdrachten kunt uitvoeren. Veel succes!



1 Maquette en infopanelen onder het afdak

Op de maquette kan je verschillende putjes terugvinden. Deze putjes stellen kraters voor. Hoeveel kraters kan je terugvinden in het landschap?



Lees nu de zes infoborden en maak vervolgens de juiste combinatie.

- | | | | |
|----|----------------|----------|-------------------|
| A. | november • | • 1914 • | • Bayernwald |
| B. | 23 januari • | • 1918 • | • Frank McGuffie |
| C. | 7 juni • | • 1919 • | • Mijenslag |
| D. | 28 september • | • 1917 • | • Chang Chi Hsuen |

Welke dieren zaten er ook in de loopgraven bij de soldaten?
Omcirkel de juiste mogelijkheden.

katten konijnen hamsters luizen honden ratten

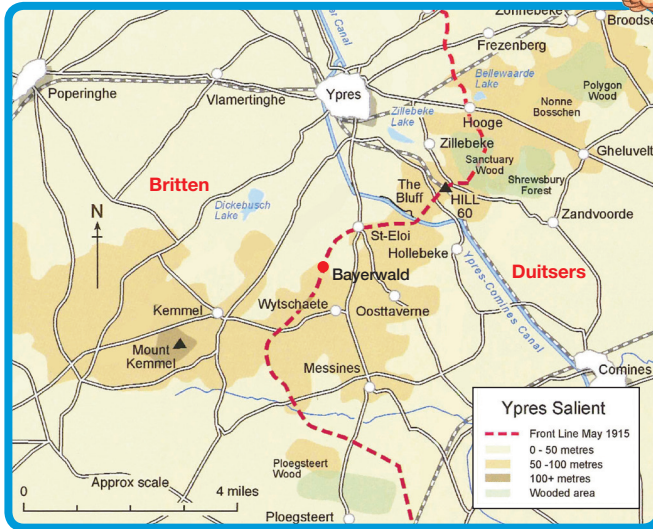

De persoon in het rood omcirkeld, vocht in de omgeving tijdens de Eerste Wereldoorlog als een gewoon soldaat.

In de Tweede Wereldoorlog was hij evenwel bevelhebber van alle Duitse troepen.

Zijn naam is _____



2 Het landschap



© Commonwealth War Graves Commission, brochure *De Ieperse Frontboog*

Bekijk het kaartje, op welke hoogte zaten de Duitse soldaten in Bayernwald?

_____ m

En de Engelse soldaten tegenover Bayernwald? _____ m


De hoogste locaties waren de beste posities omdat _____
(maar één antwoord mogelijk)

- A. Men dan de vijand goed kon zien.
- B. De soldaten niet zo diep moesten graven om tunnels te maken.
- C. De soldaten niet zo nat werden als het regende.

Welke stad zie je hier in de verte?

- A. Diksmuide
- B. Ieper
- C. Nieuwpoort

3 De mijnschacht



Hoe heet deze mijnschacht?

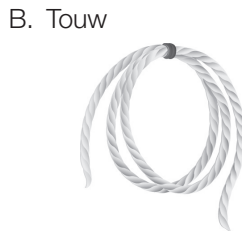

- A. Marie B. Berta C. Martha

Een mijnschacht is een verticale toegangsweg tussen het aardoppervlak en een ruimte onder de grond. Deze schachten zijn de belangrijkste wegen naar de ondergrondse mijnen, maar de schachten zijn ook vaak de enige toegang tot zuurstof onder de grond.

De mijnschacht werd gebouwd om de Britse soldaten af te luisteren.

Hoe daalden de Duitse soldaten in deze schacht af?

Kies uit de volgende mogelijkheden:



Welke voorwerpen heeft een soldaat nodig om deze mijnschacht te graven?

- emmer badeend schop
zaklamp telefoon leeg zandzakje
kanarie stethoscoop radio

Lees het infobord en vul de juiste afstanden in:

Hoe diep was de schacht? _____
Hoe hoog was de tunnel? _____
Hoe breed was de tunnel? _____



4 De bunkers

Met welk materiaal werd de bunker gebouwd?

Duid het juiste materiaal aan.

plastic baksteen leisteen marmer hout beton

Van sommige bunkers zijn er veel stenen verdwenen.

Hoe komt dit?

- A. Weggespoeld door de regen.
- B. Ontploft tijdens de Mijnslag.
- C. Na de oorlog weggenomen door de mensen die in de buurt woonden om nieuwe huizen te bouwen.

Zoals je ziet, liggen beide ingangen van de bunker aan de achterkant.

Waarom denk je?

- A. Om te vermijden dat het binnen regent.
- B. Om veilig de bunker te kunnen verlaten, uit het zicht van de vijand.
- C. Omdat het vooraan te veel waait.

Wat vind jij van de bunkers?

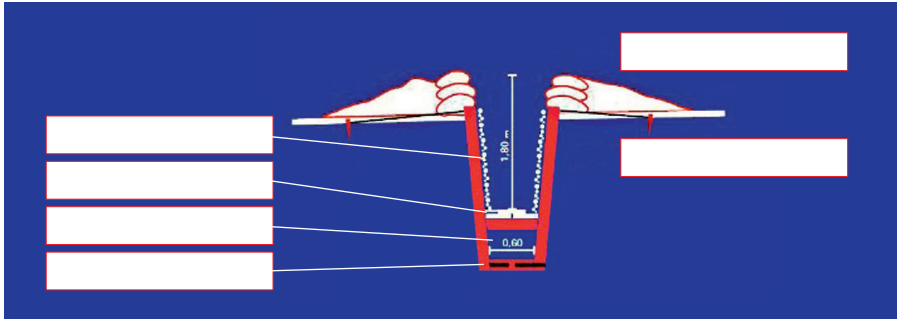
Duid meerdere bijvoeglijke naamwoorden aan en maak er een zin mee.

groot - klein - comfortabel - oncomfortabel -
gezellig - droog - koud - warm - griezelig - nat



5 De loopgraven

De loopgraven worden uitgebouwd uit verschillende materialen.
Kan jij deze figuur verder aanvullen?



Het valt op dat de loopgraven niet recht doorlopen,
maar zich als een slang slingeren door het landschap.
Welke uitspraak klopt er niet?

- A. Rechte loopgraven zijn gemakkelijker te veroveren.
- B. Als er een bom valt in een slingerende loopgraaf maakt die minder doden of gewonden.
- C. Rechte loopgraven zijn moeilijker aan te leggen.

Lees de panelen. Uit welke materialen worden loopgraven opgebouwd?

beton houten planken zandzakken takken baksteen ijzer

Hoe kwam dat materiaal naar Bayernwald?

- A. Met de boot
- B. Met grote vrachtwagens
- C. Met een smalspoorlijn



